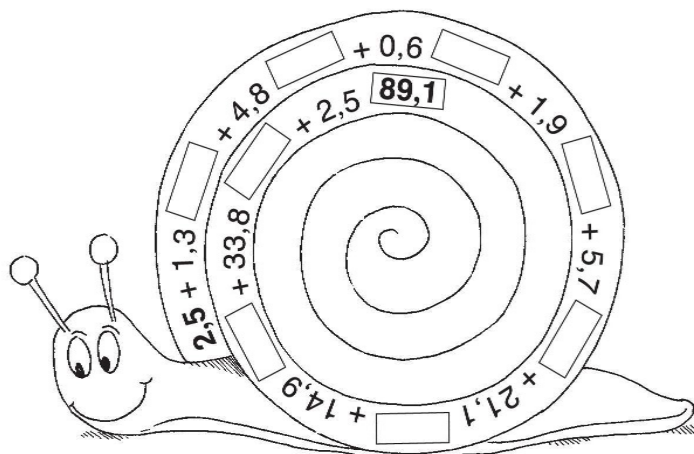


Addition und Subtraktion von Dezimalzahlen I

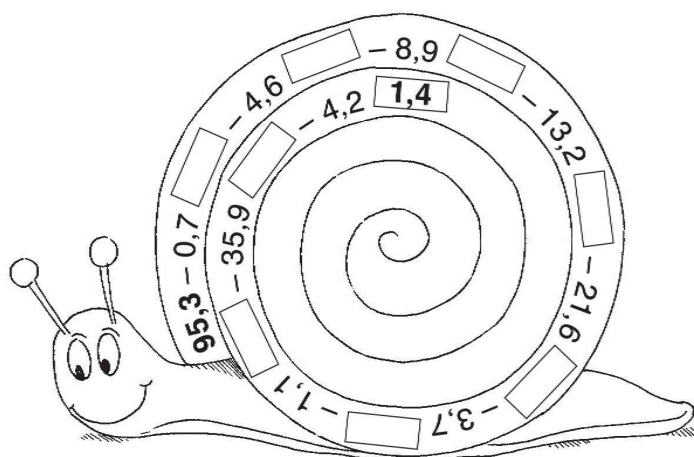


Berechne die Aufgaben in Speedys Schneckenhaus.

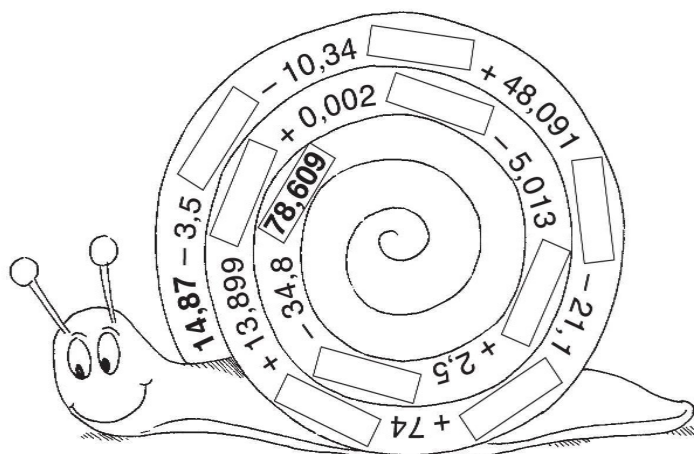
1.



2.



3.





Addition und Subtraktion von Dezimalzahlen II



Berechne. Schreibe die Aufgaben stellengerecht untereinander. Streiche die einzelnen Ziffern der Ergebnisse ab.

1. $345,87 + 67,38$

3. $0,563 + 45,1589$

5. $1,245 - 0,3789$

2. $3,678 + 124,89$

4. $534,67 - 87,9$

6. $125,7 - 33,789$

 0 1 1 1 1 1 1 2 2 2 3 4 4 4 4 5 5 5 6 6 6 6 7 7 7 8 8 8 9 9 9




Berechne. Addiere anschließend die Ergebnisse.

1. $35,67 + 0,345 + 789,4$

3. $21,7 + 1256,97 - 45,94$

2. $4589,003 - 0,4 - 32,789$

 Kontrolle:

1.

2. +

3. +

6 6 1 3,9 5 9